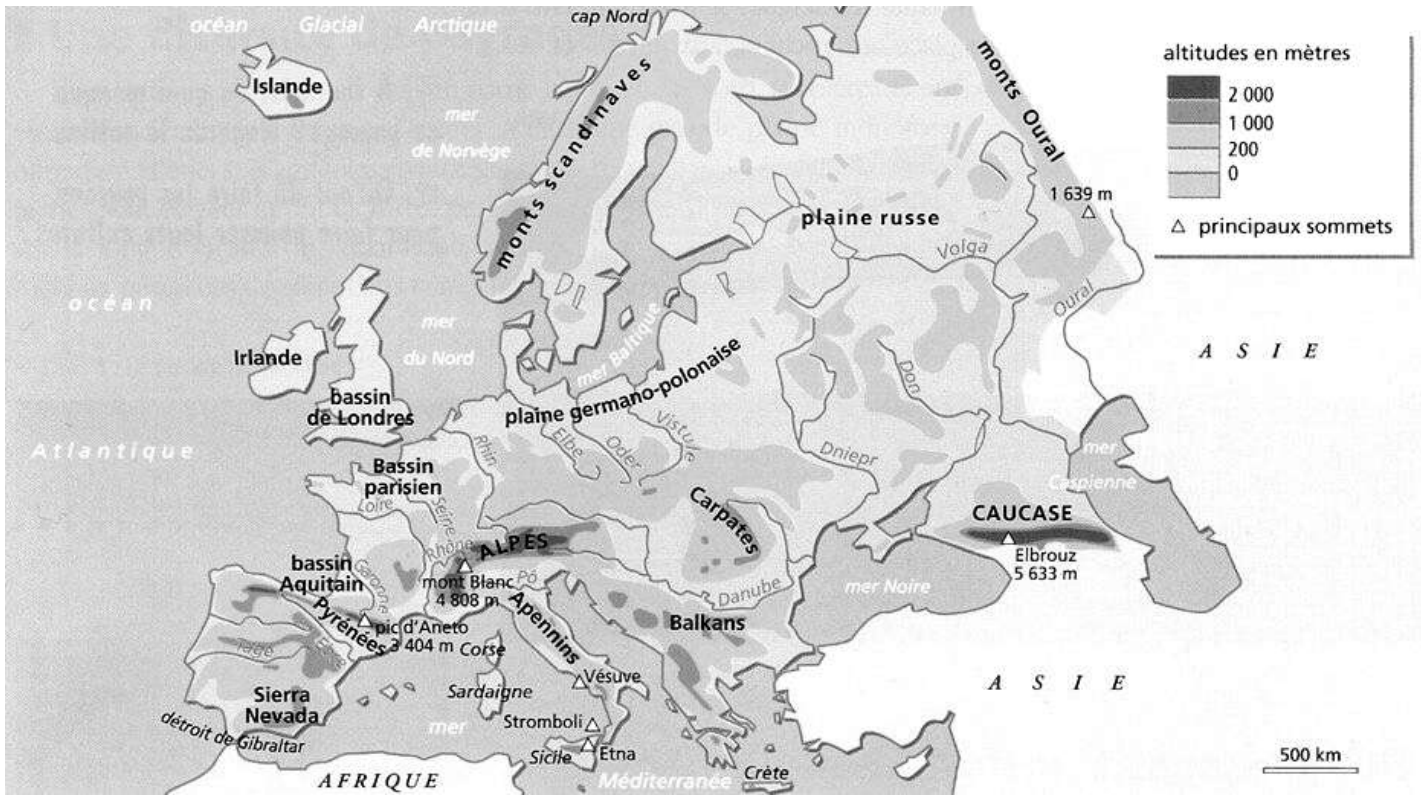


L'UE en cartes.

Carte 1 : les fleuves.

Question : Repasser en bleu les fleuves suivants : tague, Ebre, Garonne, Rhône, Loire, Seine, Rhin, Elbe, Danube.



Carte 2 : les grandes villes européennes et les principaux axes d'échanges.

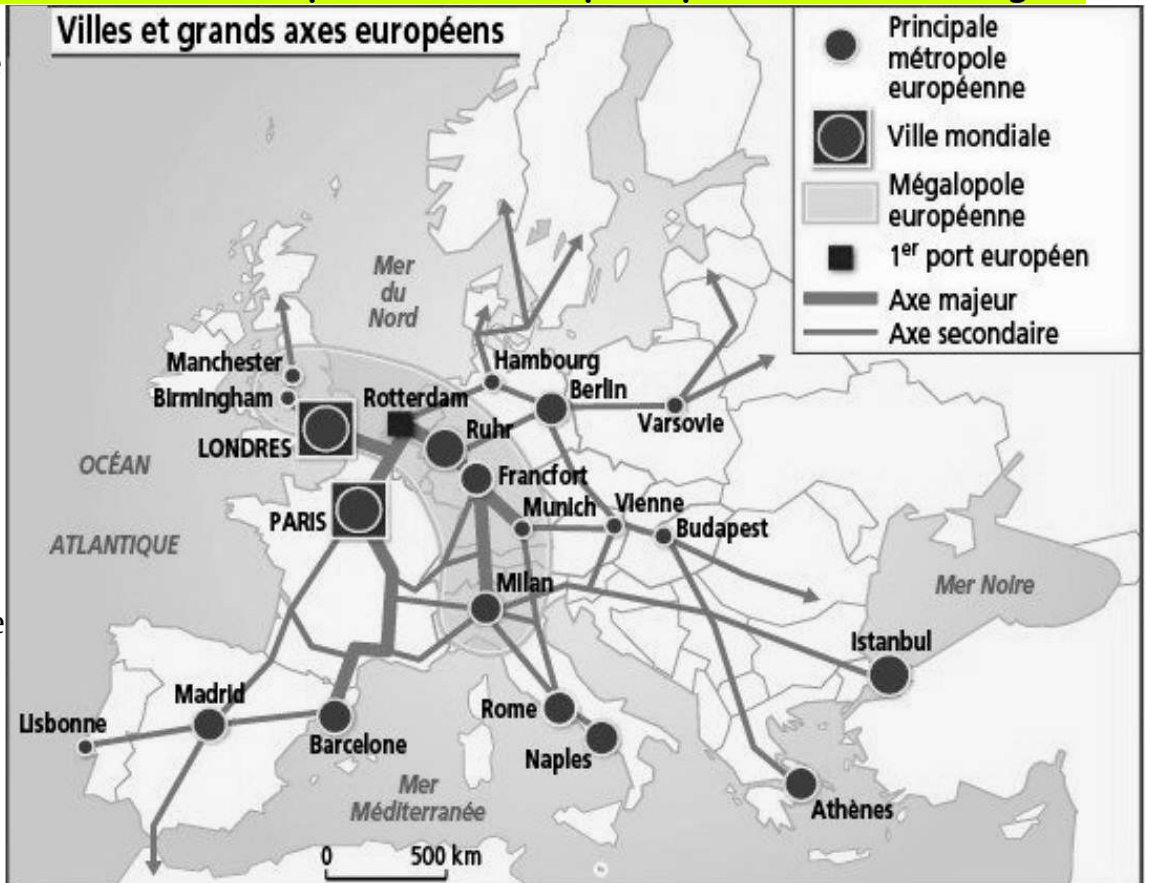
Questions.

1) Repasser en jaune la mégalopole européenne.

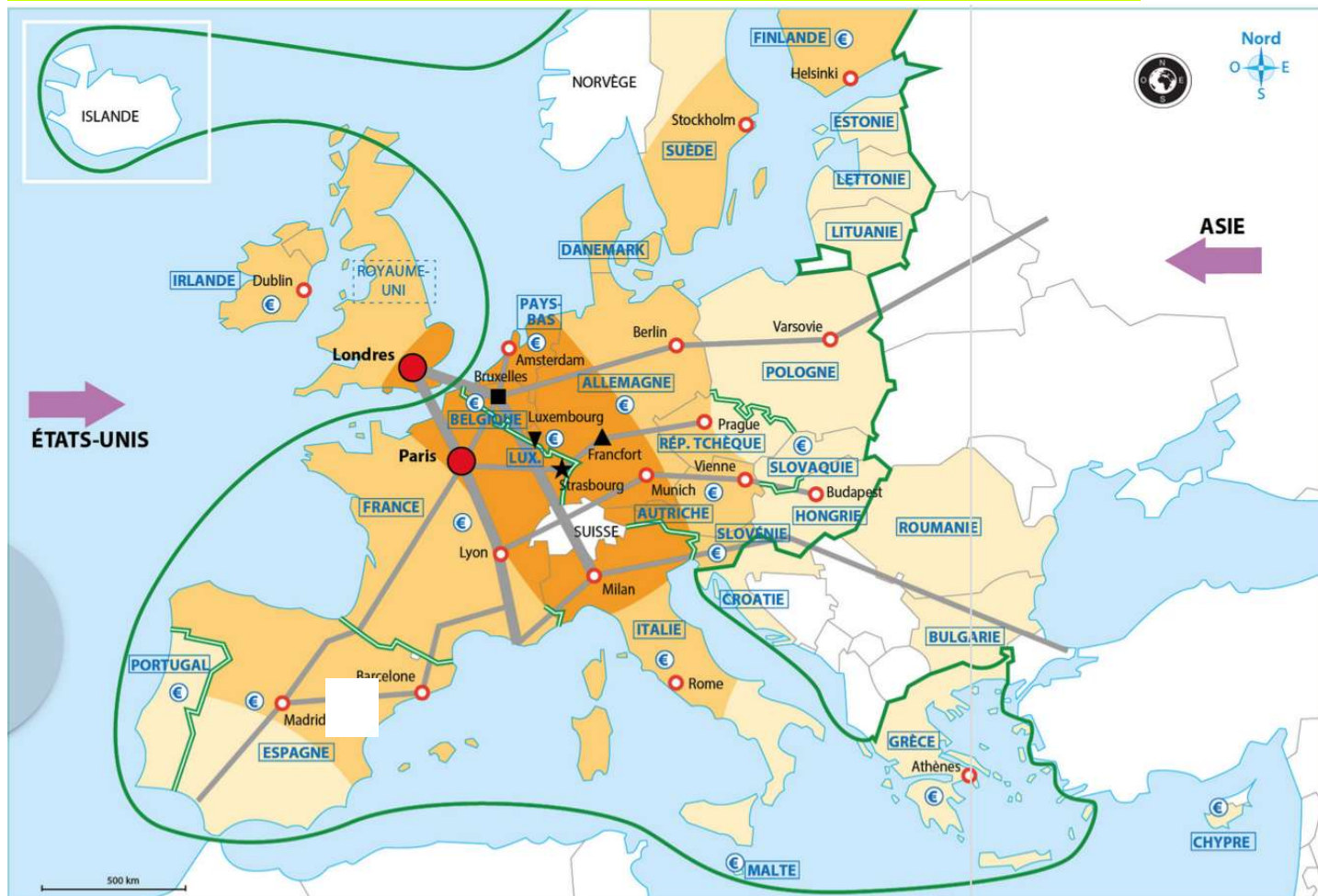
2) Souligner en rouge le nom des métropoles suivantes : Paris, Rotterdam, Ruhr, Francfort, Milan, Barcelone, Madrid, Rome, Naples, Athènes, Berlin.

3) Quelle est la seule ville mondiale aujourd'hui présente dans l'UE ?

.....



Carte 3 : les territoires de l'Union européenne. Carte de synthèse.



1. Un territoire de référence et d'appartenance fragilisé.

FRANCE Etat membre de l'U.E.



Zone euro

Espace Schengen

Forte coopération transfrontalière



Brexit (sortie du Royaume-Uni de l'UE, effective en janvier 2021)

2. Un territoire de citoyenneté.

★ Sièges du Parlement européen.

■ Sièges de la Commission européenne.

▼ Sièges de la Cour de justice européenne

▲ Sièges de la Banque Centrale Européenne (BCE).

3. Un territoire qui agit pour réduire les contrastes territoriaux.

□ Régions les plus développées et moins aidées.

□ Régions de développement intermédiaire et moyennement aidées.

□ Régions les moins développées et les plus aidées.

Axes et réseau de communication majeurs.

Axes et réseau de communication secondaires.

Métropole mondiale

Métropole secondaire.



Flux d'investissements directs étrangers.

Northern Range (façade maritime européenne d'importance mondiale)