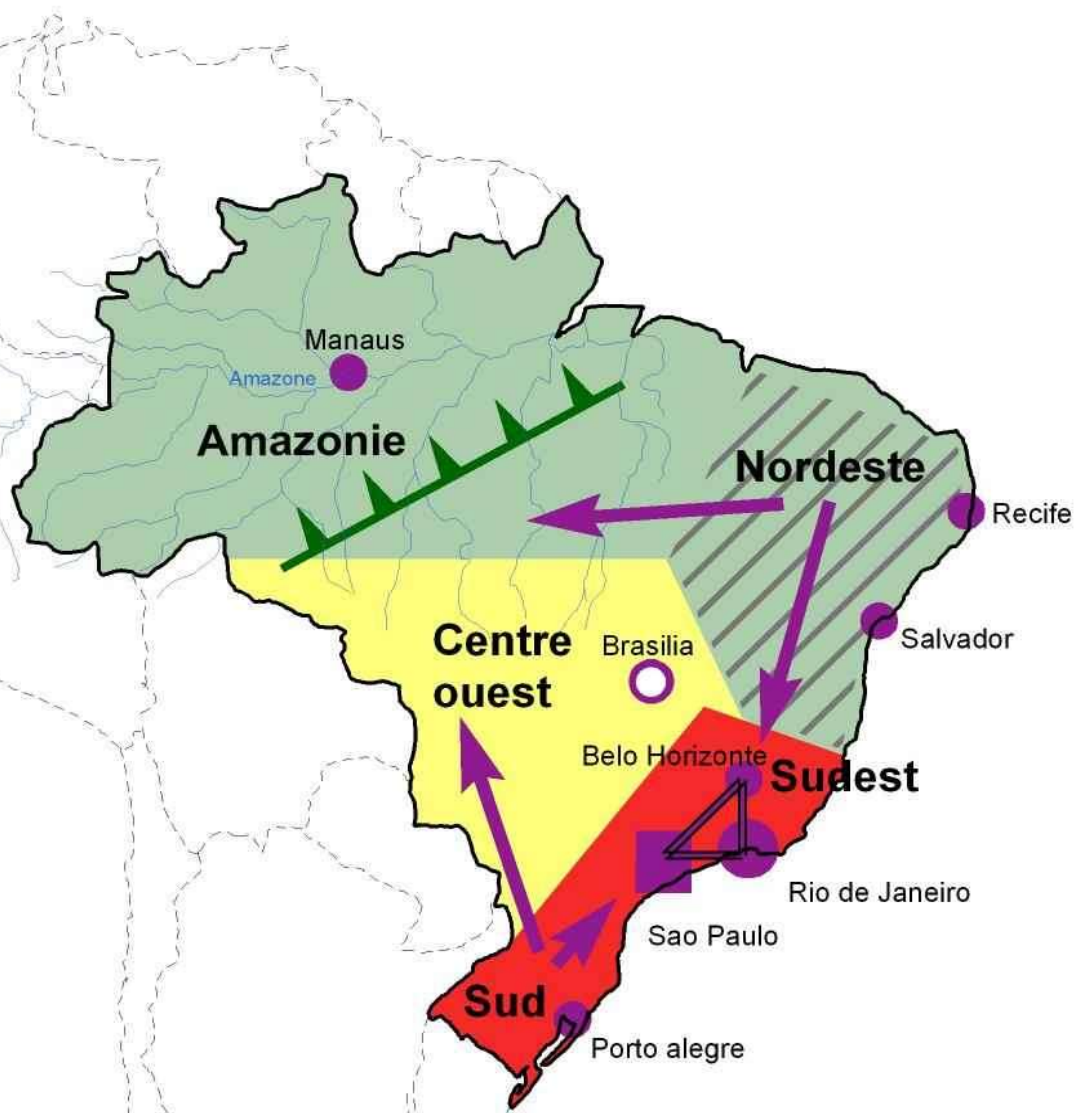


**GEOGRAPHIE.**  
**PARTIE 1.**  
**LA QUESTION DEMOGRAPHIQUE**  
**ET**  
**L'INEGAL DEVELOPPEMENT.**

# Leçon 7. Les inégalités sociales dans le monde.




# L'inégal développement du Brésil



Jacques MUNIGA

## Légende

### 1) De forts contrastes régionaux

-  Un centre avec une forte concentration de population et d'activités
-  Périphérie en voie d'intégration avec fort développement du peuplement et de l'agriculture commerciale
-  Périphérie en réserve

### 2) Des agglomérations qui structurent inégalement l'espace

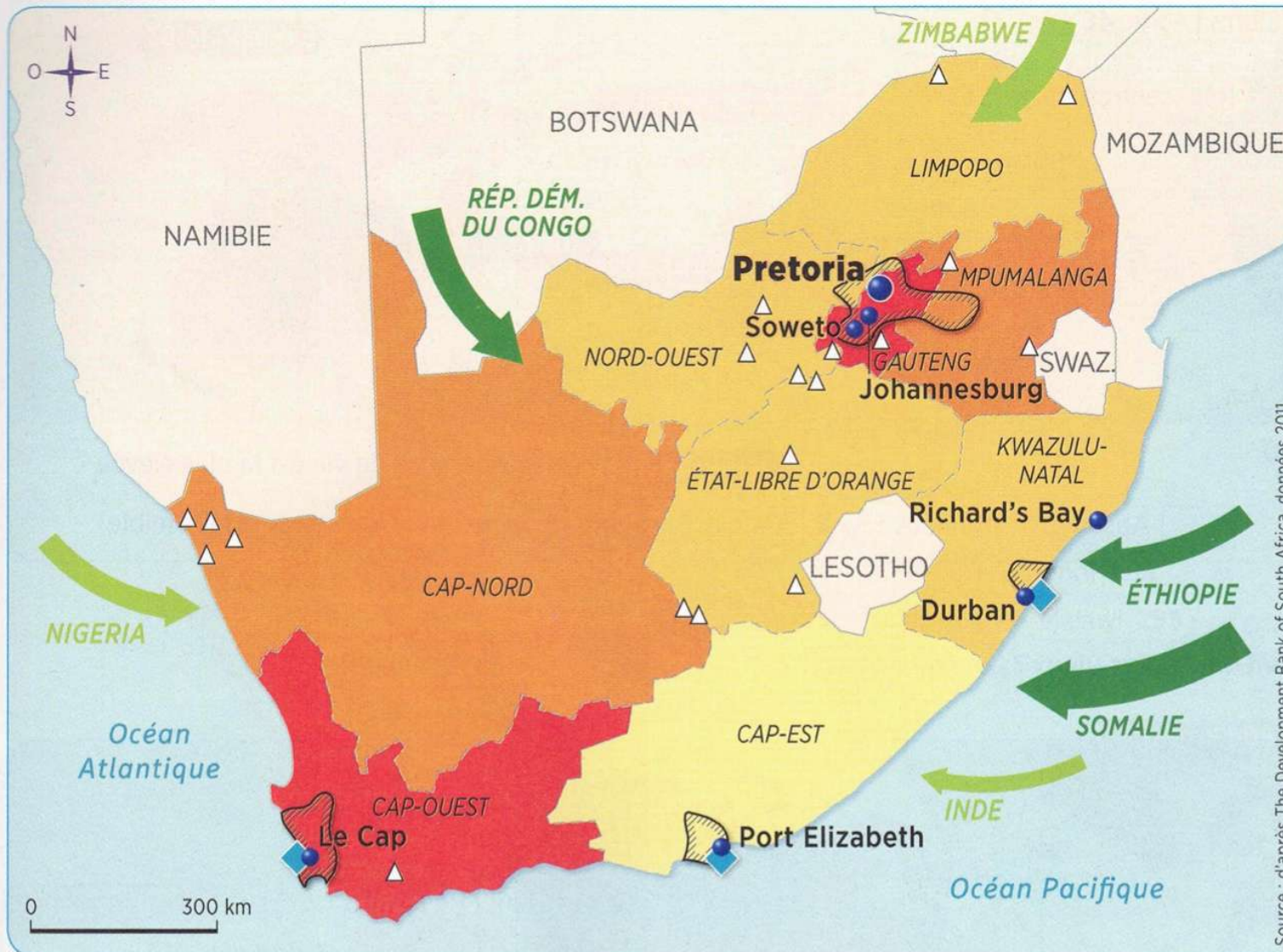
-  Capitale
-  Métropole, centre d'impulsion économique et financier
-  Triangle industriel
-  Autres villes importantes

### 3) Les dynamiques récentes

-  Front pionnier
-  Flux migratoires internes

# Quartier de Paraisopolis à Sao Paulo.





**1. Le PIB par habitant**  
(en euros)



**2. Les pôles économiques**

- Principales villes
- ◆ Grands ports
- ▨ Régions industrielles
- △ Ressources minières (or, diamant)

**3. Un pays attractif**

- ➡ Travailleurs immigrés
  - ➡ Réfugiés
- 5 000 15 000 40 000 pers.
- 

Source : d'après The Development Bank of South Africa, données 2011.

**1 Le territoire sud-africain**

➡ Richesse et pauvreté sont-elles équitablement réparties parmi les provinces d'Afrique du Sud? Justifiez votre réponse.

## 2 Un coefficient de Gini élevé

« L'Afrique du Sud, dont l'IDH s'élève à 0,658, est le pays le plus riche du continent africain avec 22 % du PIB africain pour 5 % de sa population (52 millions de Sud-Africains). Cependant, un habitant sur cinq ne mange pas à sa faim, la moitié de la population vit sous le seuil de pauvreté, le taux de chômage officiel est de 25 % et le pays compterait près de six millions de séropositifs (15 % du total mondial), c'est-à-dire des personnes porteuses du virus du Sida. Par conséquent, le coefficient de Gini de l'Afrique du Sud est l'un des plus élevés de la planète. »

Sources diverses.

➔ Relevez dans ce texte des éléments qui montrent que l'Afrique du Sud est très inégalitaire.



## 3 L'Afrique du Sud en chiffres

	Blancs	Noirs
Part dans la population (en %)	9	80
Revenu mensuel par foyer (en euros)	3000	500
Taux de chômage (en %)	4	29
Pauvres (en %)	1	62
Diplômés du supérieur (en %)	36	8

D'après Sarah Halifa-Legrand, « L'Afrique du Sud toujours inégalitaire », *Le Nouvel Observateur*, 6 décembre 2013.

Depuis 2001, les familles noires ont vu leur revenu progresser de 169 %, contre 88 % pour les familles blanches. À ce rythme, il faudra encore 60 ans pour qu'elles aient le même niveau de vie !

➔ Quelle autre forme d'inégalité révèle ce document ? Comment l'expliquez-vous ?



A. Vue aérienne de Rivonia

B. Le township d'Alexandra

#### 4 Johannesburg, une ville contrastée

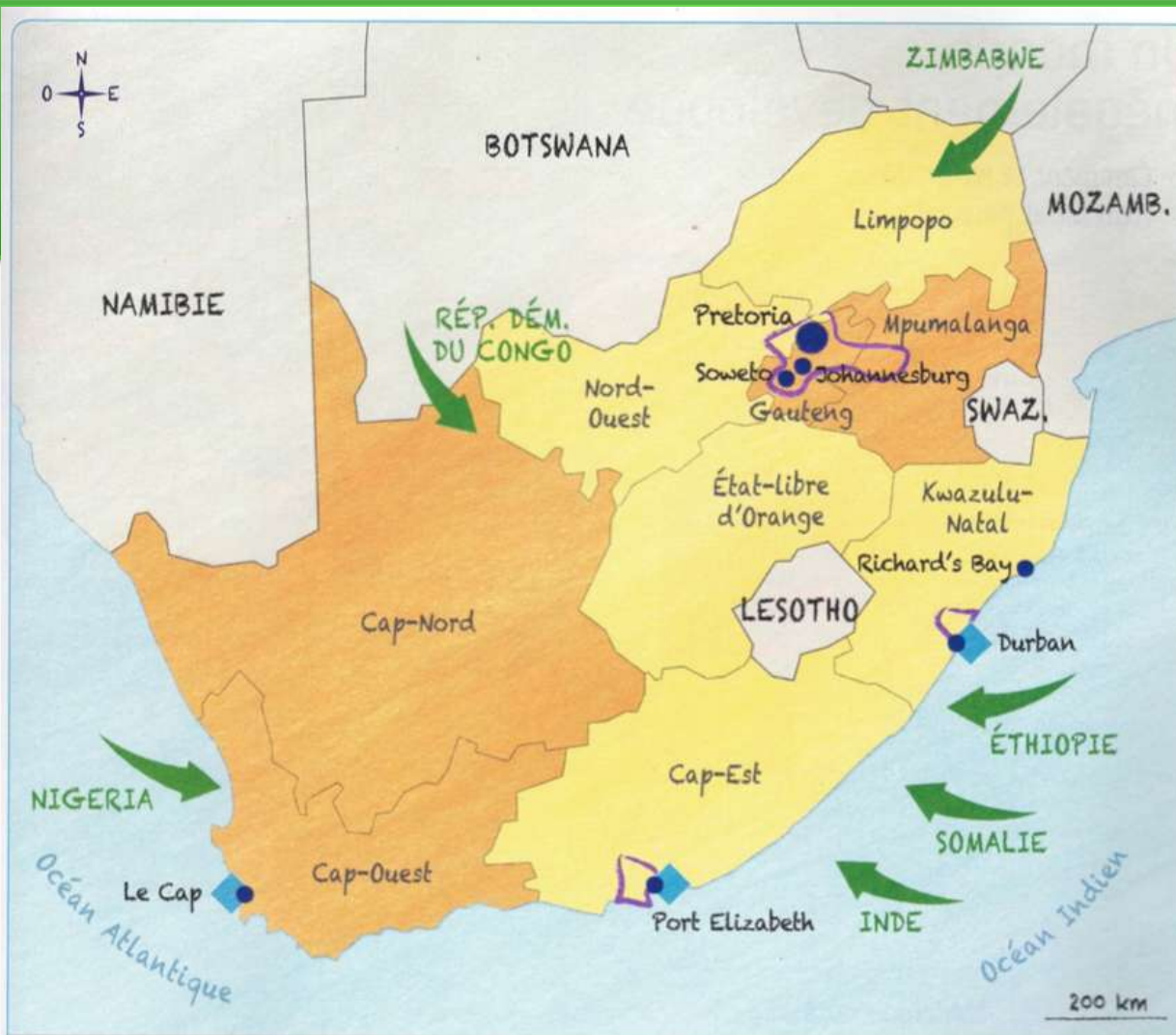
A. Ce quartier est situé dans la banlieue aisée de Johannesburg. B. Dans ce **township** vivent 400 000 personnes.



**5 Un point d'eau à Masiphumelele, bidonville du Cap**

➔ Pourquoi peut-on dire que la vie quotidienne de ces deux jeunes filles est difficile ?





## Les inégalités sud-africaines.

- |   |  |
|---|--|
| <p><span style="display: inline-block; width: 15px; height: 15px; background-color: #f4a460; border: 1px solid black; margin-right: 5px;"></span> a. Les provinces aux revenus élevés ou intermédiaires.</p> <p><span style="display: inline-block; width: 15px; height: 15px; background-color: #fff9c4; border: 1px solid black; margin-right: 5px;"></span> b. Les provinces pauvres.</p> <p><span style="display: inline-block; width: 15px; height: 15px; border: 2px dashed purple; margin-right: 5px;"></span> c. Le coeur économique du pays.</p> | <p><span style="display: inline-block; width: 15px; height: 15px; background-color: #000080; border-radius: 50%; border: 1px solid black; margin-right: 5px;"></span> d. Les ports principaux</p> <p><span style="display: inline-block; width: 15px; height: 15px; background-color: #000080; border-radius: 50%; border: 1px solid black; margin-right: 5px;"></span> e. Les principales villes où coexistent riches et pauvres.</p> <p><span style="display: inline-block; width: 15px; height: 15px; background-color: #008000; border: 1px solid black; margin-right: 5px;"></span> f. La richesse sud-africaine attire les populations voisines pauvres.</p> |
|---|--|

# Seuil de pauvreté en France

(1) La somme correspond à 60 % du revenu médian des Français.  
Elle est rehaussée en fonction du nombre de personnes du foyer.

Personne seule (1)



**964 €**

Pour une femme et son enfant



**1 253 €**

Couple sans enfant



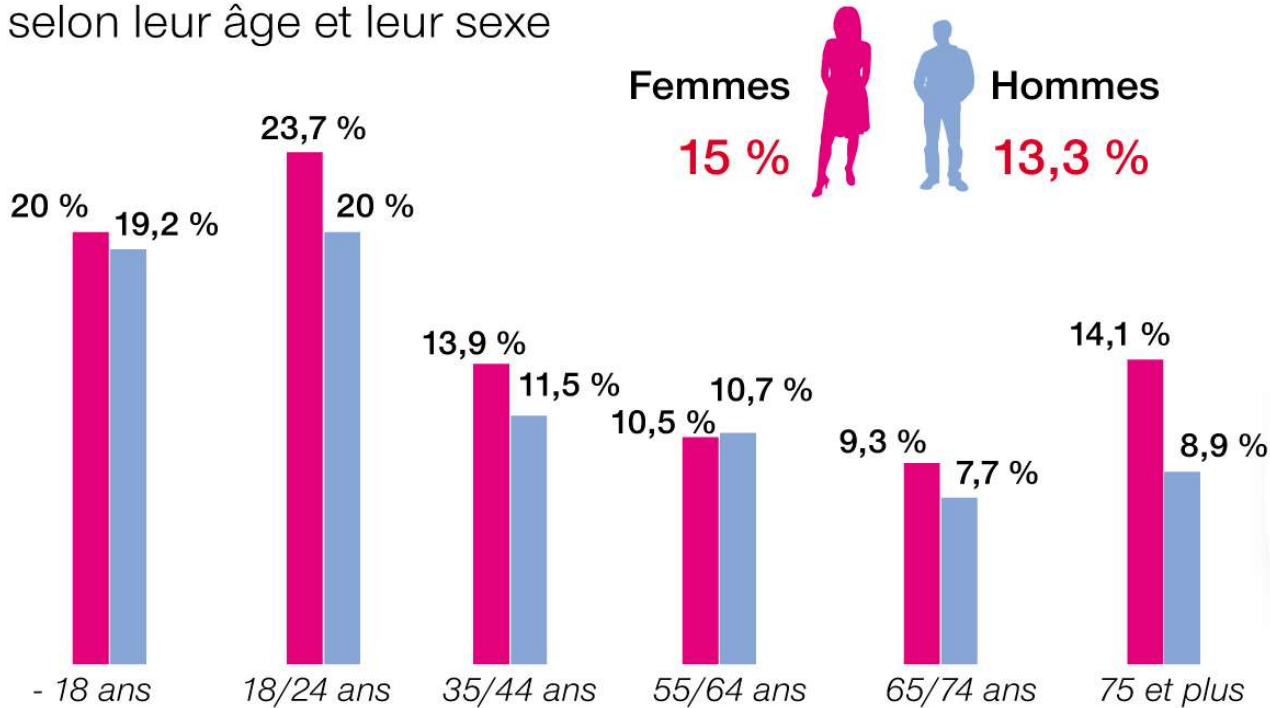
**1 446 €**

Couple avec 2 enfants



**2 024 €**

Taux de personnes vivant sous le seuil de pauvreté selon leur âge et leur sexe



**2 millions** de personnes au RSA



**dont 1,5 million** pour *le RSA socle*, sans revenu d'activité



## Résumé.

Les inégalités sociales sont présentes partout, à toutes les échelles. Ainsi, au Brésil (pays émergent), les régions du sud-est et du sud sont aussi riches que celles de pays européens tandis que les régions du nord et du nord-est sont pauvres. De nombreux habitants y vivent en-dessous du seuil de pauvreté (1,90\$ par jour). Les inégalités se voient dans les paysages. Ainsi à Sao Paulo, dans le quartier de Paraisopolis, des immeubles luxueux jouxtent (sont à côté de) les favelles.

En Afrique du Sud, les régions du Cap Ouest et de Pretoria, qui abritent de nombreuses industries, sont riches tandis que la région du Cap-Est est pauvre. La pauvreté touche bien davantage les Noirs, même si leurs revenus progressent plus vite que ceux des Blancs. Dans le paysage, le contraste entre des quartiers aisés où vivent majoritairement des Blancs et les townships existe toujours, malgré l'abolition de l'apartheid il y a plus de 30 ans.

Si les inégalités sont particulièrement fortes dans les pays émergents (Brésil, Afrique du Sud, Inde...) , elles sont aussi présentes dans les pays riches. Ainsi, en France, en 2019, environ 14,6 % de personnes vivent sous le seuil de pauvreté, soit 9,2 millions de personnes (1102€ par mois pour une personne seule en 2019) tandis que 1 % gagne plus de 7000€ par mois et par personne.